

# SITUER DANS L'ESPACE

---

Histoire et éducation à la citoyenneté  
2<sup>e</sup> cycle du secondaire

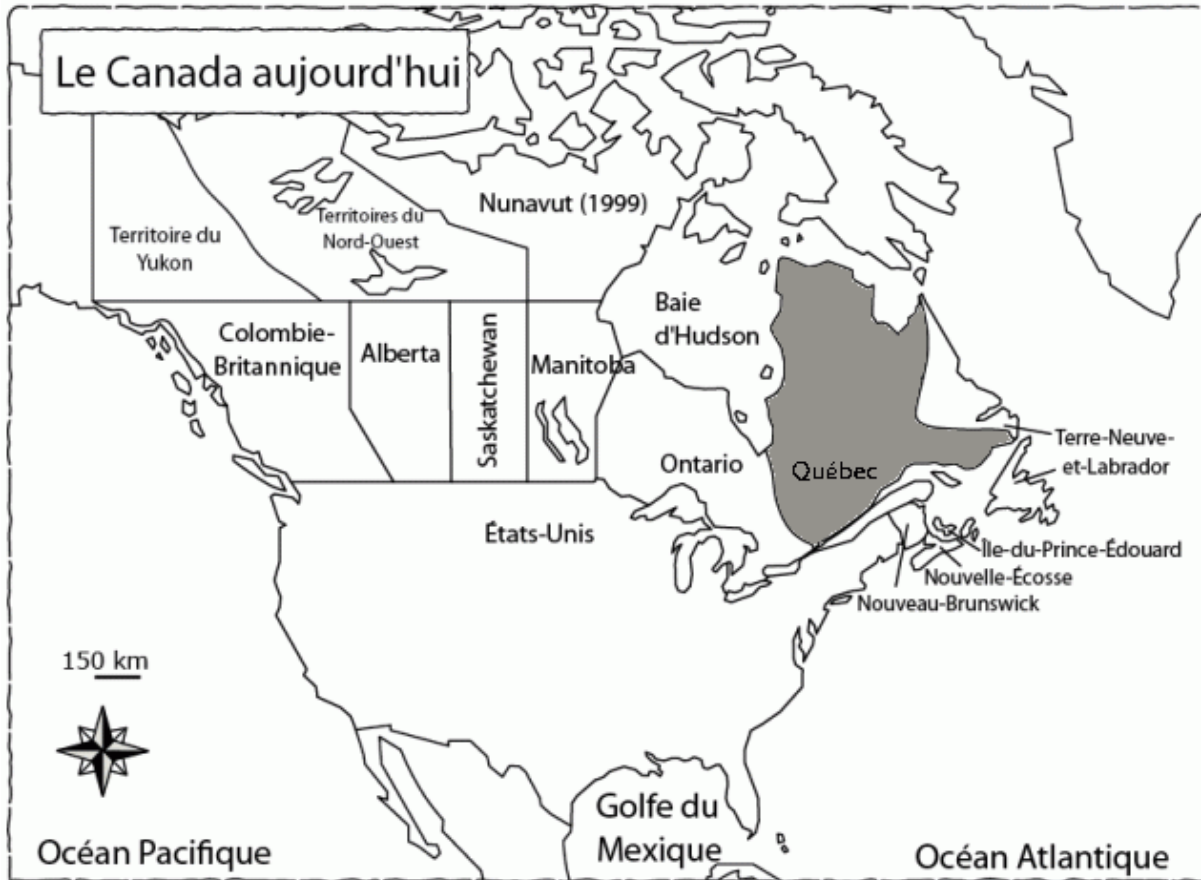
# SITUER DANS L'ESPACE

---

Situer des territoires dans le temps

**Situer des éléments géographiques ou des faits ou des territoires dans l'espace**

# Situer dans l'espace



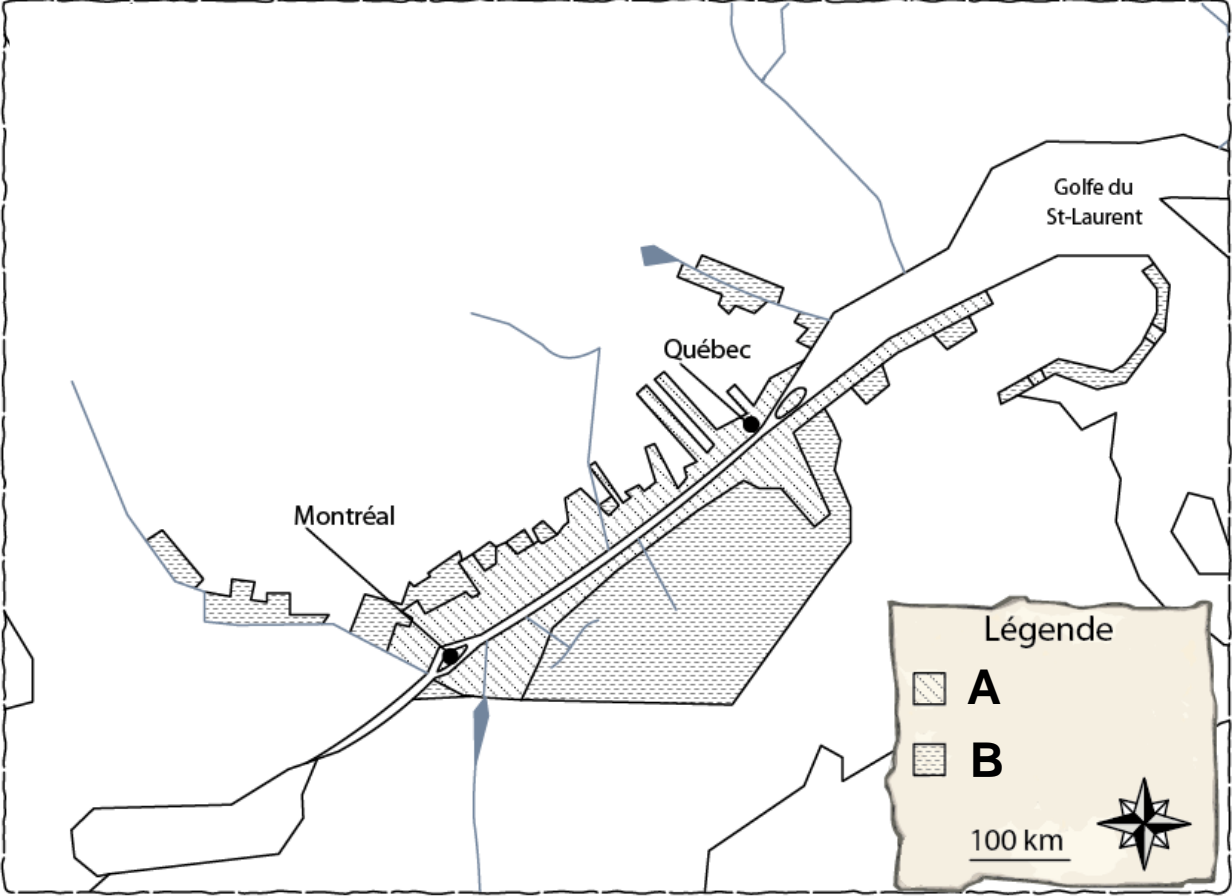
J'habite au Québec, à l'intérieur du Canada.





Source : Service national du RÉCIT, domaine de l'univers social

## Deux modes de division des terres



## Question

La *Province of Quebec* connaît deux modes de division des terres.

À partir de la carte, indiquez la lettre qui correspond au mode de division des terres utilisé par les Canadiens français.

# Réflexion sur la réponse...

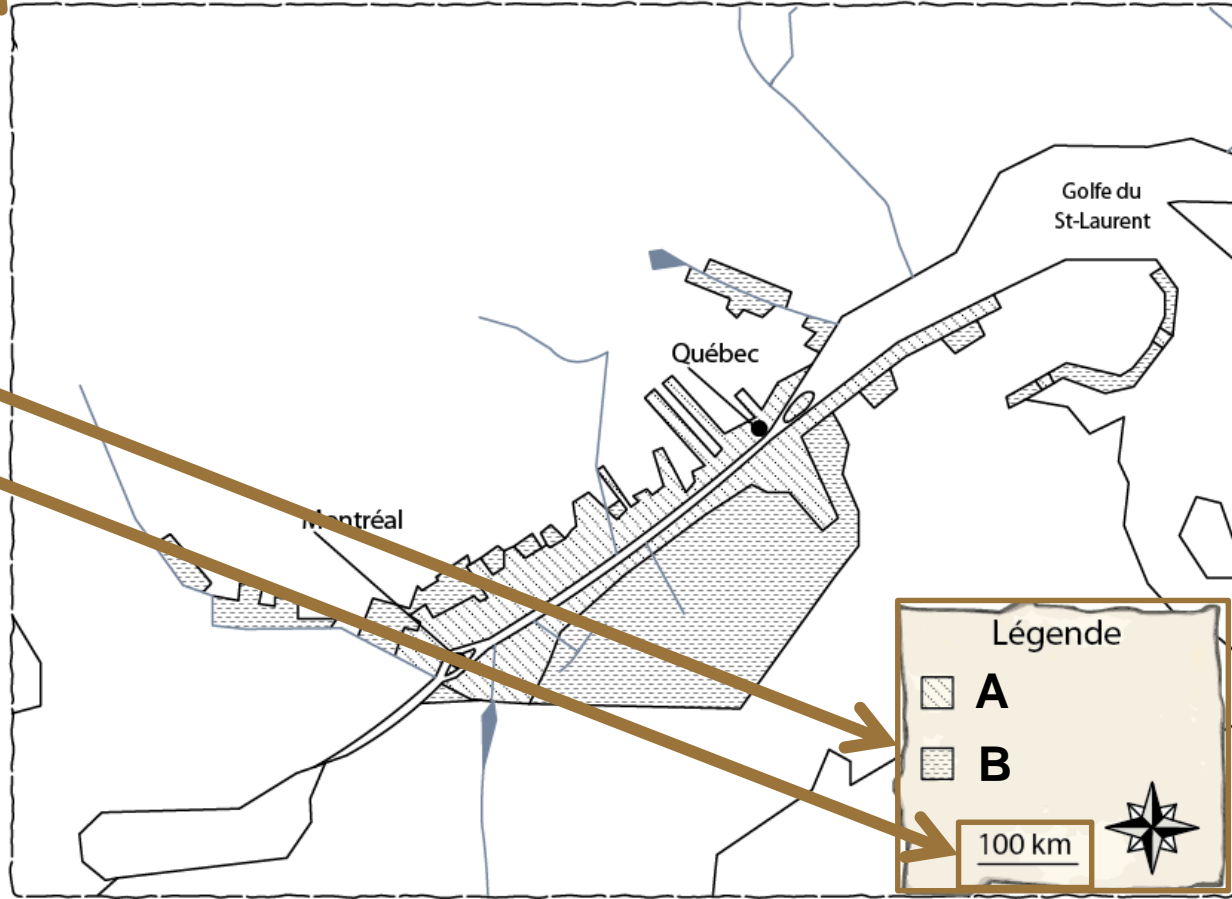
Étapes de la démarche:

- 1) Je décède le titre de la carte.
- 2) Je décède la légende de la carte.
- 3) Je lis l'échelle.
- 4) Je repère les données statiques ou dynamiques sur la carte.



Source : Service national du RÉCIT, domaine de l'univers social

## Deux modes de division des terres





# Réflexion sur la réponse...



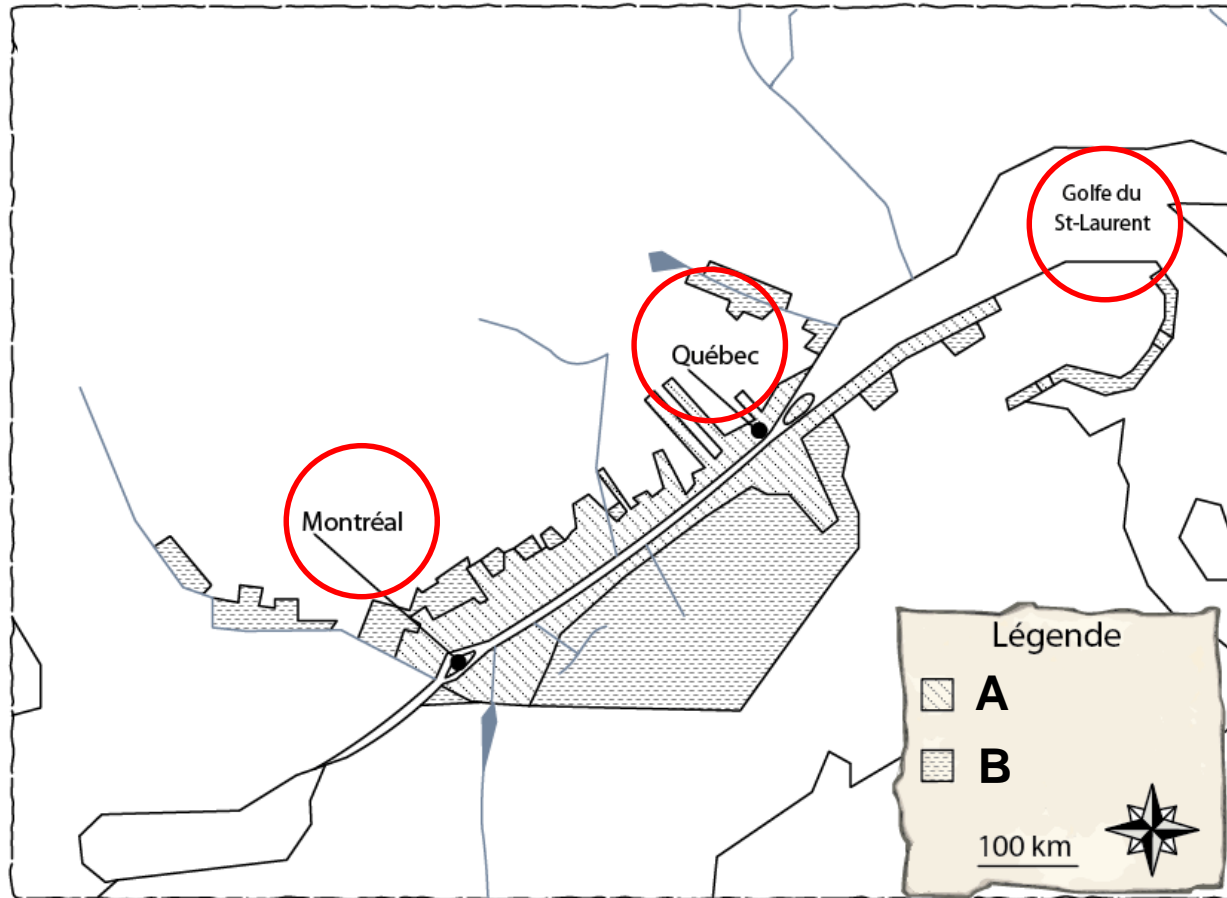
Étapes de la démarche:

- 1) Je décède le titre de la carte.
- 2) Je décède la légende de la carte.
- 3) Je lis l'échelle.
- 4) Je repère les données statiques ou dynamiques sur la carte.



Source : Service national du RÉCIT, domaine de l'univers social

## Deux modes de division des terres



## Question

La *Province of Quebec* connaît deux modes de division des terres.

À partir de la carte, indiquez la lettre qui correspond au mode de division des terres utilisé par les Canadiens français.

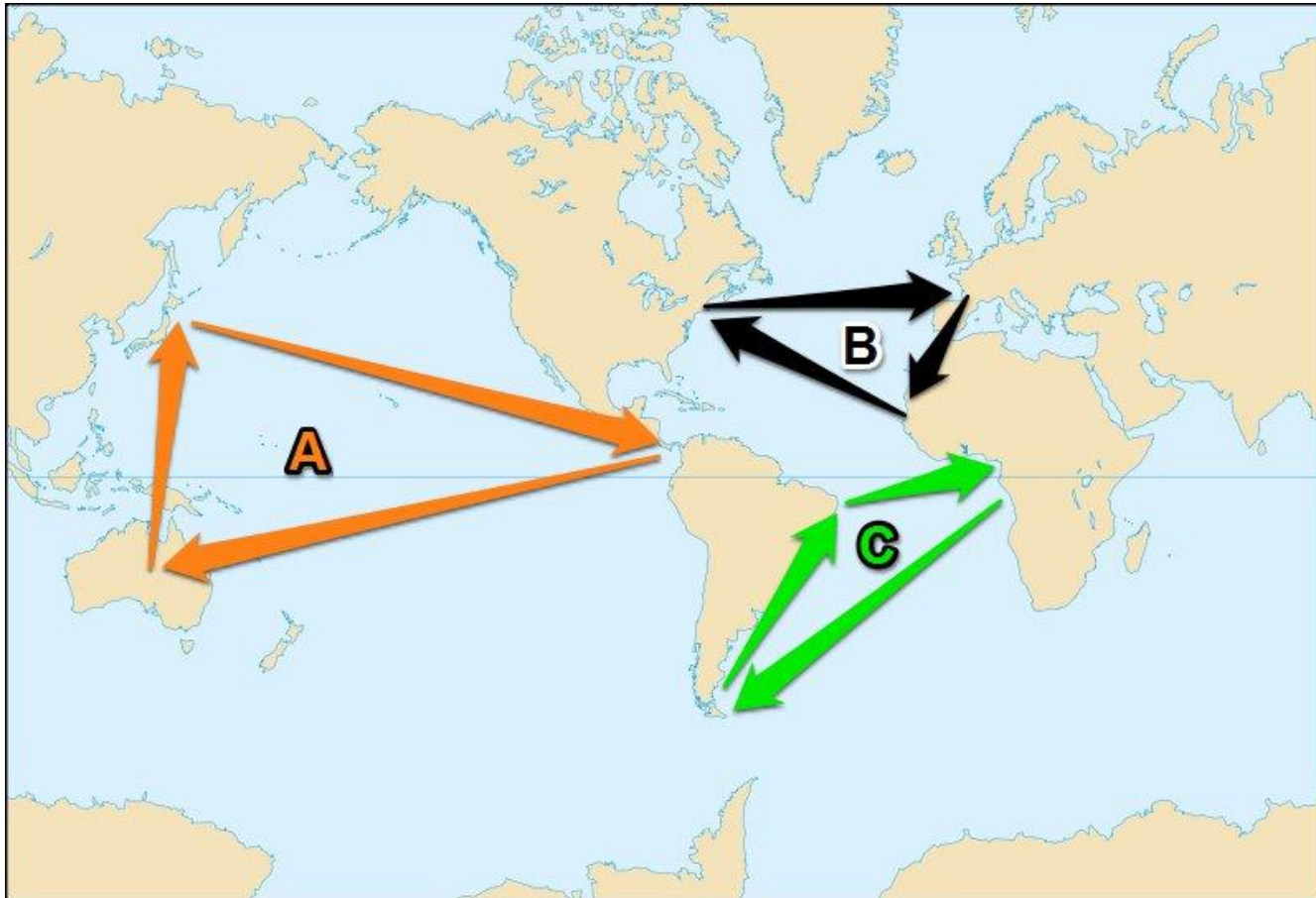
# Réponse

La lettre **A** représente le mode de division utilisé par les Canadiens français.

# À vous de situer dans l'espace...



## Le commerce triangulaire



Source : Wikimedia.

## Question

Durant le Régime français, le commerce triangulaire prend une grande place dans l'économie de la colonie.

Quelle lettre correspond aux territoires qui constituent les pôles du commerce triangulaire durant le Régime français?

# Réflexion sur la réponse...



Étapes de la démarche:

- 1) Je décède le titre de la carte.
- 2) Je décède la légende de la carte.
- 3) Je lis l'échelle.
- 4) Je repère les données statiques ou dynamiques sur la carte.



Source : Service national du RÉCIT, domaine de l'univers social

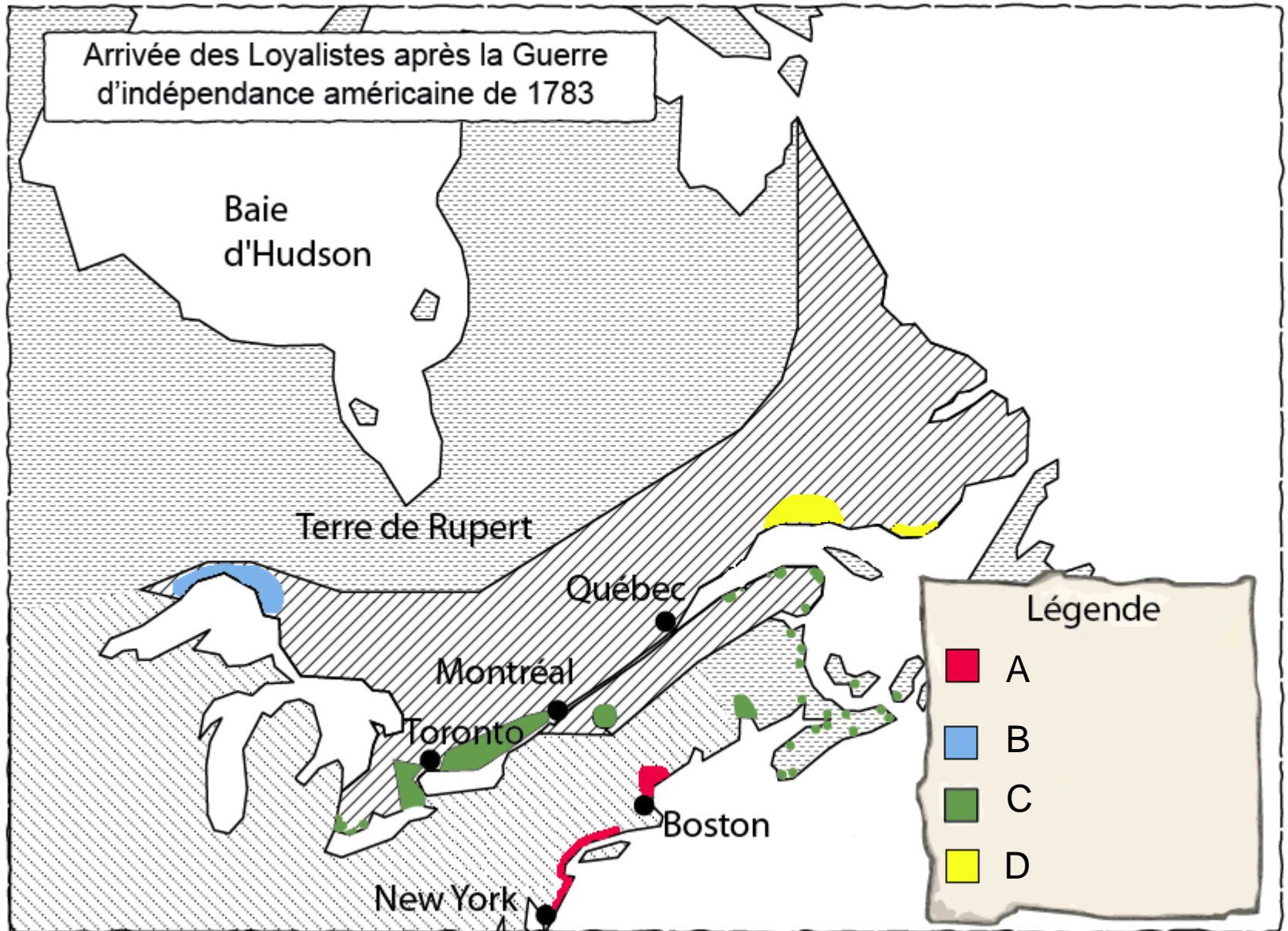


Réponse

La lettre **B**.

# À toi de situer dans l'espace...





## Question

Après la Révolution américaine, des sujets voulant rester fidèles à la couronne britannique sont venus s'installer dans la *Province of Quebec*.

Sur la carte, quelle lettre représente les établissements des Loyalistes lors de leur arrivée après la Révolution américaine?

# Réflexion sur la réponse...



Étapes de la démarche:

- 1) Je décède le titre de la carte.
- 2) Je décède la légende de la carte.
- 3) Je lis l'échelle.
- 4) Je repère les données statiques ou dynamiques sur la carte.



Source : Service national du RÉCIT, domaine de l'univers social

Réponse

La lettre C.