

DÉTERMINER DES FACTEURS EXPLICATIFS ET DES CONSÉQUENCES

Histoire et éducation à la citoyenneté
2^e cycle du secondaire

DÉTERMINER DES CONSÉQUENCES

Identifier des faits qui découlent d'une réalité

Déterminer des conséquences

Je n'ai pas fait mon arrêt à une intersection.



Cause

Donc

J'ai provoqué un accident avec une autre voiture.



Situation ou contexte

Ce qui a pour conséquence que...

J'ai un bras cassé



Conséquence



Source : Service national du RÉCIT, domaine de l'univers social

La Pizzeria Napoletana



La nourriture italienne est sans aucun doute intégrée à Montréal. Construite en 1948, on peut encore y déguster plusieurs plats typiquement italiens.

Source de l'image : RÉCIT national, domaine de l'univers social, *La Pizzeria Napoletana* (2013).
Licence : Creative Commons (BY-NC-SA).



Boulevard Saint-Laurent à Montréal. Deux arches d'architecture traditionnelle chinoise. Celles-ci ont été données par la Chine à la ville de Montréal.

Source : Fred, Wikimedia Commons. Licence : Creative Commons (BY-SA).

Question

Au cours du XX^e siècle, le Canada connaît plusieurs mouvements migratoires.

Indiquez un effet de l'immigration sur le territoire urbain à la fin du 20^e siècle.

Dans votre réponse, vous devez déterminer correctement une **conséquence**.

Réflexion sur la réponse...





Étapes de la démarche:

- 1) Je repère le sujet donné dans la question.
- 2) Je trouve un ou des faits postérieurs qui en découlent (conséquence).

Question

Au cours du XX^e siècle, le Canada connaît plusieurs mouvements migratoires.



Indiquez un effet de l'immigration sur le territoire urbain à la fin du 20^e siècle.



Dans votre réponse, vous devez déterminer correctement une **conséquence**.

Réflexion sur la réponse...



Étapes de la démarche:

1) Je repère le sujet donné dans la question.


2) Je trouve un ou des faits postérieurs qui en découlent (conséquence).

La Pizzeria Napoletana




La nourriture italienne est sans aucun doute intégrée à Montréal. Construite en 1948, on peut encore déguster plusieurs plats typiquement italiens.

Source de l'image : RÉCIT national, domaine de l'univers social, *La Pizzeria Napoletana* (2013).
Licence : Creative Commons (BY-NC-SA).



3QPOC

Qui? Personnes? Groupes? Institutions?	Quoi? De quoi s'agit-il? Que s'est-il passé?	Quand? Date? Période? Époque?
Pourquoi? Causes? Conséquences?	Où? Territoire? Pays? Ville?	Comment? Circonstances? Déroulement?



Boulevard Saint-Laurent à Montréal. Deux arches d'architecture traditionnelle chinoise. Celles-ci ont été données par la Chine à la ville de Montréal.

Source : Fred, Wikimedia Commons. Licence : Creative Commons (BY-SA).



Question

Au cours du XX^e siècle, le Canada connaît plusieurs mouvements migratoires.

Indiquez un effet de l'immigration sur le territoire urbain à la fin du 20^e siècle.

Dans votre réponse, vous devez déterminer correctement une **conséquence**.

Réponses possibles

- Le développement de quartiers ethniques

OU

- L'ouverture de commerces ethniques

OU

- L'établissement de lieux de culte de diverses confessions

Accepter toute formulation équivalente


À vous de déterminer une conséquence...



© Lakeshore



Le canal de Lachine



“Inauguré en 1825, puis agrandi à deux reprises, le canal de Lachine relie Montréal à un réseau de canaux qui met à sa portée l’intérieur du continent nord-américain. Des entreprises et des manufactures nombreuses et variées s’établissent le long de ses berges afin de profiter de sa localisation : proximité d’une main-d’oeuvre peu coûteuse, du port, des marchés et des capitaux (banques).”

Question

La 1^{re} phase d'industrialisation a de nombreuses conséquences sur l'organisation du territoire de Montréal.

Avec l'augmentation de la production industrielle, les besoins pour transporter les marchandises sont de plus en plus importants. Indiquez un impact de ces besoins sur l'organisation du territoire de Montréal.

Dans votre réponse, vous devez déterminer correctement une **conséquence**.

Réflexion sur la réponse...



Étapes de la démarche:

1) Je repère le sujet donné dans la question.

2) Je trouve un ou des faits postérieurs qui en découlent (conséquence).



Réponses possibles

- L'élargissement de canaux

OU

- L'amélioration des voies de transport

À toi de déterminer une conséquence...





Le budget d'une famille ouvrière

“À Montréal, les travailleurs consacrent 60% de leur budget à l'alimentation et 20% au loyer. Pour subvenir à leurs besoins, les membres d'une famille de plus de huit ans doivent aller travailler. Pour échapper au chômage, les travailleurs québécois courent aux portes des manufactures.”

Source : [Musée McCord](#).

Les salaires hebdomadaires (par semaine) moyens vers 1885

Boulangers	8,00\$	Tailleurs (hommes)	8,00\$
Cigariers	7,00\$	Tailleurs (femmes)	3,00\$
Tanneurs	6,00\$	Mouleurs de fer	11,00\$
Cordonniers (hommes)	8,00\$	Mouleurs de fer journaliers	7,00\$
Cordonniers (femmes)	4,00\$	Tonneliers	10,00\$
Coton (hommes)	5,00\$	Tonneliers journaliers	7,00\$
Coton (femmes)	4,50\$	Typographes	10,00\$

Source : Fernand Harvey, *Révolution industrielle et travailleurs. Une enquête sur les rapports entre le capital et le travail au Québec à la fin du 19^e siècle*, Montréal, Boréal Express, 1978, p. 150.

Question

La 1^{re} phase d'industrialisation a de nombreuses conséquences sur la société.

Identifiez une des conséquences sociales de l'industrialisation.

Dans votre réponse, vous devez déterminer correctement une **conséquence**.

Réflexion sur la réponse...



Étapes de la démarche:

1) Je repère le sujet donné dans la question.

2) Je trouve un ou des faits postérieurs qui en découlent (conséquence).



Réponses possibles

- Bas salaires

OU

- Conditions de vie et de travail difficiles